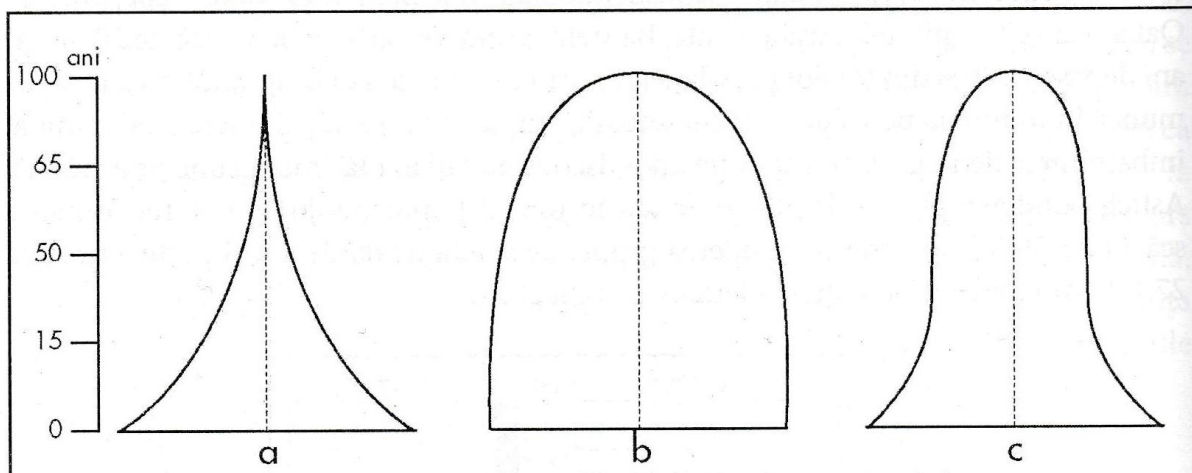


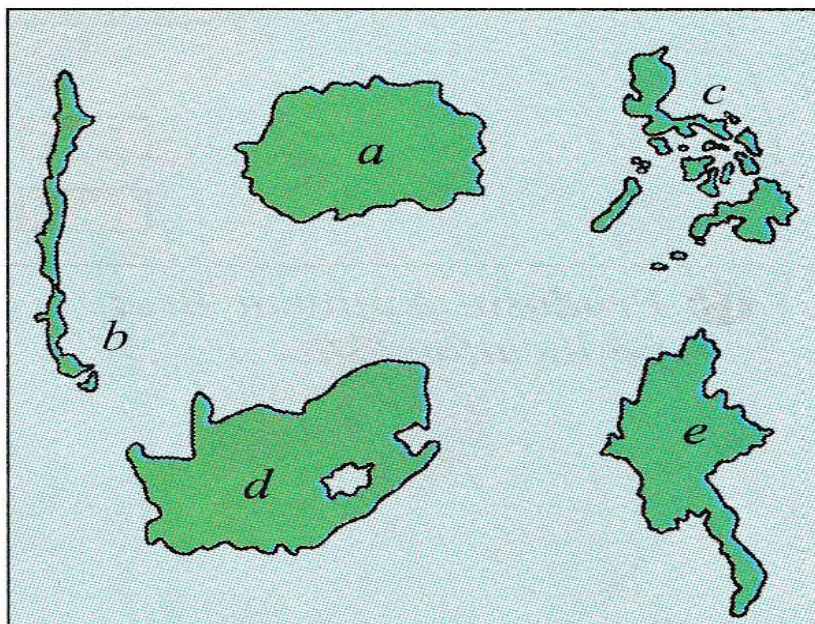
Olimpiada de Geografie
Etapa Județeană – 7 Martie 2015, Clasa a X-a
Proba practică scrisă

NOTĂ. Timpul de lucru este de 1 oră. Toate subiectele sunt obligatorii. Se acordă 10 puncte din oficiu.

I. Precizați caracteristica principală a populației, ilustrată în piramidele grupelor de vârstă, din figura de mai jos. (15 puncte)



II. În figura de mai jos sunt prezentate tipuri de configurație teritorială a unor state. (40 puncte)

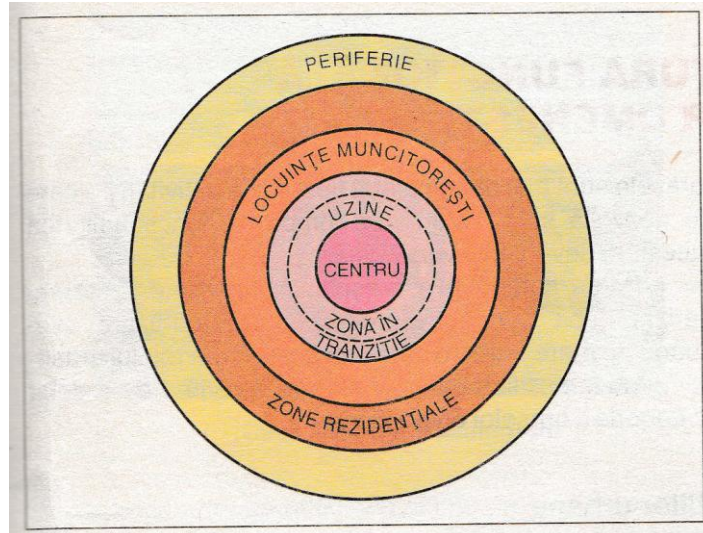


1. Denumiți fiecare tip de configurație din această figură. (25 p)
2. Dați câte un exemplu de stat pentru fiecare tip de configurație. (15 p)

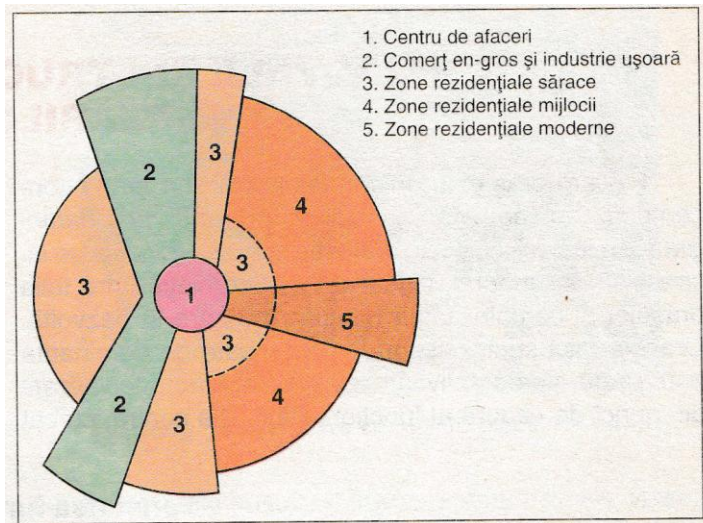
(40 puncte)

III. În figurile de mai jos sunt prezentate trei modele de organizare a orașelor. (35 puncte)

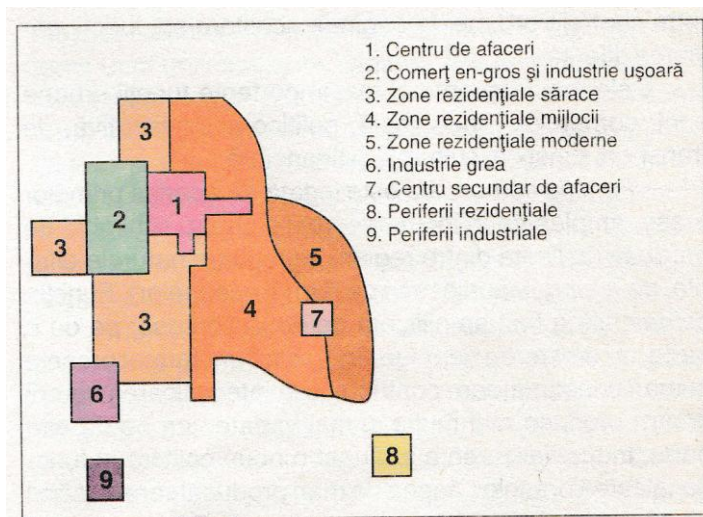
- 1) Recunoașteți modelele de organizare a orașelor, din figurile de mai jos. (15 p)
- 2) Prezentați principalele caracteristici ale unui model dat. (20 p)



a)



b)



c)

Olimpiada de Geografie
Etapa Județeană – 7 Martie 2015, Clasa a X-a
Proba practică scrisă
Barem de evaluare și notare

I. Se acordă 15 puncte, câte 5 p pentru fiecare caracteristică de mai jos:

- a. Populație dominant tânără- 5p
- b. Populație îmbătrânită- 5 p
- c. Populație în curs de întinerire- 5 p

II. Se acordă 40 de puncte, astfel:

1. 25 puncte, astfel:
 - a. compactă- 5p
 - b. alungită- 5p
 - c. fragmentată- 5p
 - d. cu enclave- 5p
 - e. cu protuberanțe- 5p
2. 15 puncte pentru exemple corecte de țări, astfel:
 - a. România...- 3p
 - b. Chile...- 3p
 - c. Filipine...- 3p
 - d. Republica Africa de Sud...- 3p
 - e. Thailanda...- 3p

III. Se acordă 35 de puncte, astfel:

- 1) 15 puncte, astfel:
 - a) Modelul concentric- 5p
 - b) Modelul radial- 5p
 - c) Modelul polinuclear- 5p
- 2) 20 puncte pentru prezentarea corectă a unui model de organizare, la alegere între a), b) sau c):
 - a) Modelul concentric are ca nucleu central de afaceri. Creșterea este concepută în zone circulare care se extind circular pe măsură ce orașul se dezvoltă economic și demografic. În jurul nucleului este amplasată industria ușoară înconjurată de locuințele muncitorești. Urmează apoi o zonă rezidențială compactă și periferiile care fac trecerea spre spațiul rural.
 - b) Modelul radial este structurat în sectoare de cerc care pornesc tot de la centrul de afaceri. Nucleul este reprezentat tot printr-un pol terțiar de la care pornesc sub formă de pană zonele comerciale și industriale. Acestea sunt delimitate de o parte și de alta de zonele rezidențiale sărace, cu cât ne depărtăm de centru ajungem în zonele rezidențiale ale claselor sociale mijlocii și bogate.
 - c) Modelul polinuclear plasează în mijlocul orașului centrul de afaceri înconjurat de comerțul engross și industria ușoară și zone rezidențiale sărace și de standard mediu. Spre periferie, orașul mai cuprinde un centru secundar de afaceri delimitat de rezidențele bogate. Se conturează o periferie rezidențială și una de industrie grea, separate de orașul propriu-zis.

Se acordă 10 puncte din oficiu.