

CONCURSUL ȘCOLAR DE GEOGRAFIE
 ETAPALOCALĂ, 12 Februarie 2014

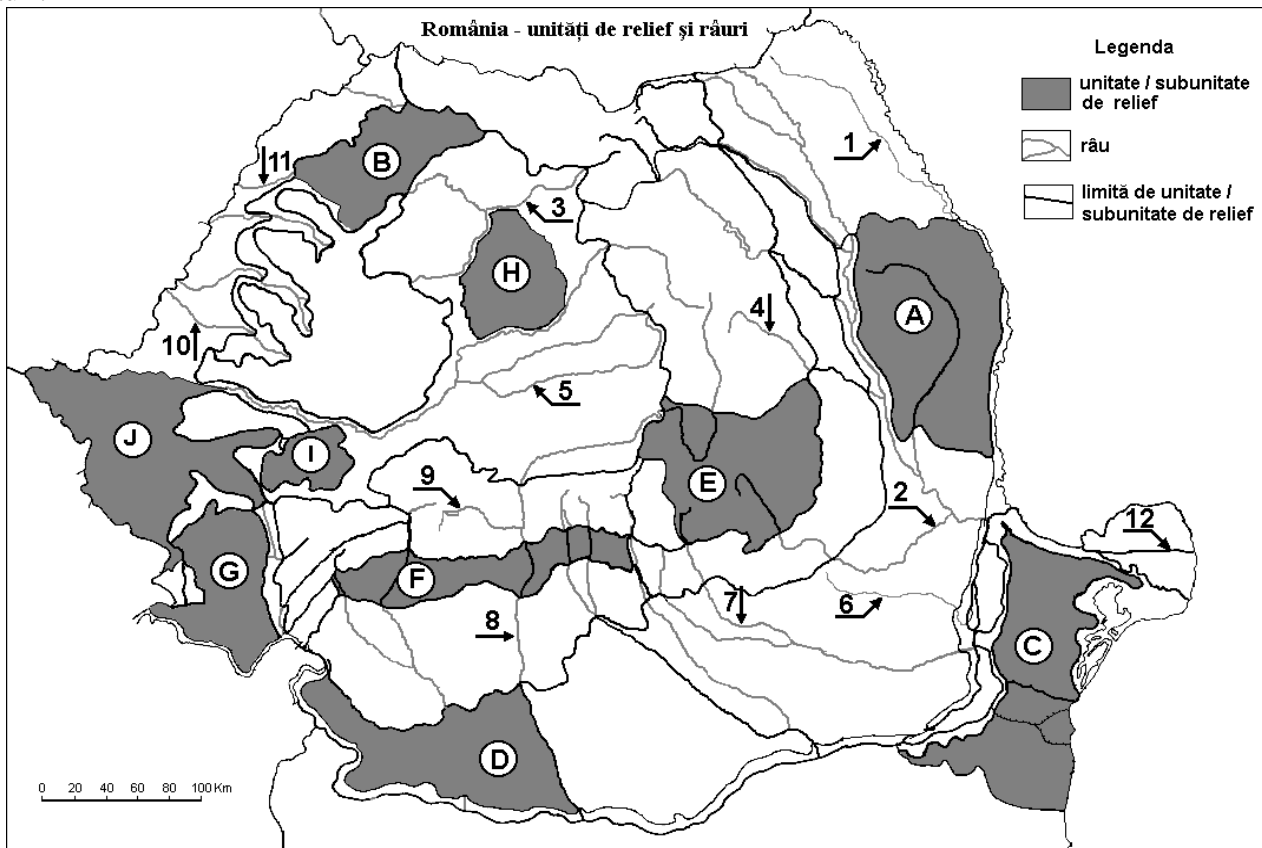
CLASA a VIII-a

PROBA TEORETICĂ SCRISĂ

- Toate subiectele sunt obligatorii. Se acordă 10 puncte din oficiu.
- Timpul efectiv de lucru este de 3 ore.

Subiectul I (10 puncte)


Pe harta de mai jos sunt marcate, cu litere de la A la J, unități/subunități de relief, iar cu numere de de la 1 la 12 râuri.

**Precizați:**

- a. numele râului marcat, pe hartă, cu numărul 7;
- b. numele unei depresiuni intramontane străbătute de râul marcat, pe hartă, cu numărul 2;
- c. denumirea celor mai vechi roci specifice zonei centrale a unității de relief marcate, pe hartă, cu litera C;
- d. numele râului care străbate pe hartă unitatea A;
- e. numele unității de relief marcată pe hartă, cu litera I;
- f. altitudinea maximă din unitatea de relief marcată, pe hartă, cu litera E, precum și numele munților în care aceasta se înregistrează;
- g. numele munților din care izvorăște râul marcat, pe hartă, cu numărul 8;
- h. numele munților delimitați la sud de râul marcat, pe hartă, cu numărul 9.
- i. numele unității de relief marcată pe hartă cu litera H.

20 puncte

Analizați imaginile de mai jos, marcate cu literele **A**, **B** și **C**. Precizați:



1. tipul de relief reprezentat în fiecare din imaginile marcate cu literele **A**, **B** și **C**;
2. o unitate de relief în care este prezent tipul de relief redat în imaginea marcată cu litera **A**;
3. denumirea rocilor pe care s-a dezvoltat relieful reprezentat în imaginea **B**, precum și unitatea de relief unde este larg răspândit acest tip;
4. trei forme de relief caracteristice tipului genetic de relief reprezentat în imaginea **C**, precum și o unitate de relief unde este larg răspândit acest tip.

20 puncte

Subiectul III (20 puncte)

Comparați Subcarpații Moldovei cu Subcarpații Getici, precizând două deosebiri și două asemănări privitoare la relief.

Deosebirile și asemănările se pot referi la oricare dintre următoarele elemente de relief: altitudini, modul de formare, tipuri de roci, tipuri de relief, fragmentare, orientarea culmilor.

Notă: *Punctajul maxim va fi acordat doar dacă cele 2 unități vor fi tratate comparativ și nu separat.*

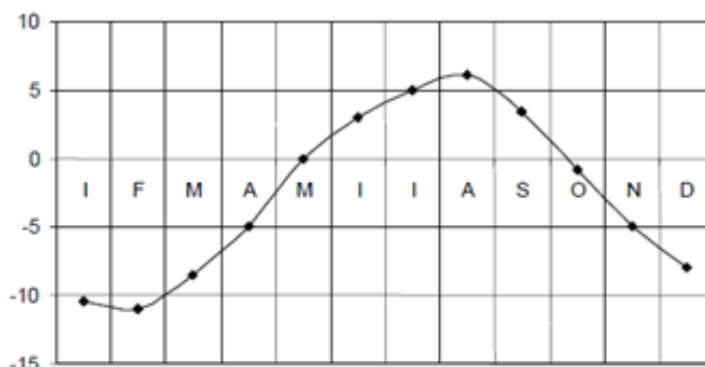
Subiectul IV (20 puncte)

Caracterizați fizico-geografic Munții Apuseni, având în vedere următoarele: limite, patru caracteristici ale reliefului, subdiviziuni, etaj climatic, temperaturi medii anuale, precipitații medii anuale, o influență climatică, patru râuri ce traversează sau limitează unitatea.

Subiectul V (10 puncte)

Analizați reprezentarea grafică de mai jos care prezintă evoluția temperaturilor medii la o stație meteorologică din România. Precizați:

- a. treapta majoră de relief în care este situată stația respectivă;
- b. valoarea temperaturii în luna noiembrie;
- c. valoarea temperaturii în luna iulie;
- d. modul de calcul a temperaturii medii anuale.



10 puncte

**TOTAL: 90 PUNCTE
OFICIU: 10 PUNCTE**


 CONCURSUL ȘCOLAR DE GEOGRAFIE,
 ETAPA LOCALĂ, 12 februarie 2014

 BAREM DE EVALUARE ȘI DE NOTARE
 CLASA a VIII -a

- Se punctează oricare alte formulări / modalități de rezolvare corectă a cerințelor.
- Nu se acordă punctaje intermediare, altele decât cele precizate explicit prin barem. Nu se acordă fracțiuni de punct.

Subiectul I: 20 puncte

1. Se acordă câte **2 p** pentru fiecare răspuns corect:

- Prahova* – **2p**;
- Întorsura Buzăului* – **2p**;
- șisturi verzi* – **2p**;
- Bârlad* – **2p**;
- Munții Poiana Ruscă* – **2p**;
- 1954 m* – **2p**; *Munții Ciucaș* – **2p**;
- Munții Hășmașu Mare* – **2p**;
- Munții Lotrului* – **2p**.
- Câmpia Transilvaniei* – **2p**

Total 20 puncte

Subiectul II: 20 puncte

1. Se acordă câte **2 p** pentru fiecare răspuns corect:

- A** – *relief dezvoltat pe conglomerate (se acceptă și relief petrografic);*
B – *relief carstic (se acceptă și relief petrografic);*
C – *relief glaciatic;*

2. Se acordă **2 p** pentru precizarea unei unități de relief: *Munții Bucegi / Munții Ciucaș / Munții Ceahlău;*

3. Se acordă **2 p** pentru denumirea rocilor: *calcare* și **2 p** pentru precizarea unității de relief: *Munții Apuseni;*

4. Se acordă câte **2 p** pentru fiecare formă de relief: *circuri glaciare, văi glaciare, morene, custuri etc.* și **2 p** pentru precizarea unității de relief: *Munții Făgăraș / Munții Retezat-Godeanu / Munții Parâng.*

Total Subiectul II (1+2+3+4) = 20 puncte

Subiectul III:20 puncte

Se acordă câte **5 puncte** pentru fiecare deosebire și asemănare corect formulată astfel:

10 puncte pentru 2 deosebiri

10 puncte pentru 2 asemănări

Total 20 puncte

Subiectul IV: 20 puncte

limite (**2p**); caracteristici ale reliefului **4p** (cate 1 punct pentru fiecare caracteristică a reliefului corect enunțată); minim 10 diviziuni **10p** – (câte 1p pentru fiecare); etaj climatic (**1p**), temperaturi medii anuale (**1p**); precipitații medii anuale (**1p**); influență climatică (**1p**).

Total 20 puncte

Subiectul V: 10 puncte

Se acordă următorul punctaj pentru fiecare cerință solicitată, astfel:

a. munte – **2 puncte**;

b. – 5 grade Celsius – **2 puncte**; c. 5 grade Celsius – **2 puncte**; d. **4 puncte** pentru explicarea modului de calcul.

Total 10 puncte

TOTAL: 90 PUNCTE

OFICIU: 10 PUNCTE