

CONCURSUL ȘCOLAR DE GEOGRAFIE, ETAPA LOCALĂ, 12 FEBRUARIE 2014

CLASA A XII-A

PROBA TEORETICĂ SCRISĂ

- Toate subiectele sunt obligatorii. Se acordă 10 puncte din oficiu.
- Timpul efectiv de lucru este de 3 ore.

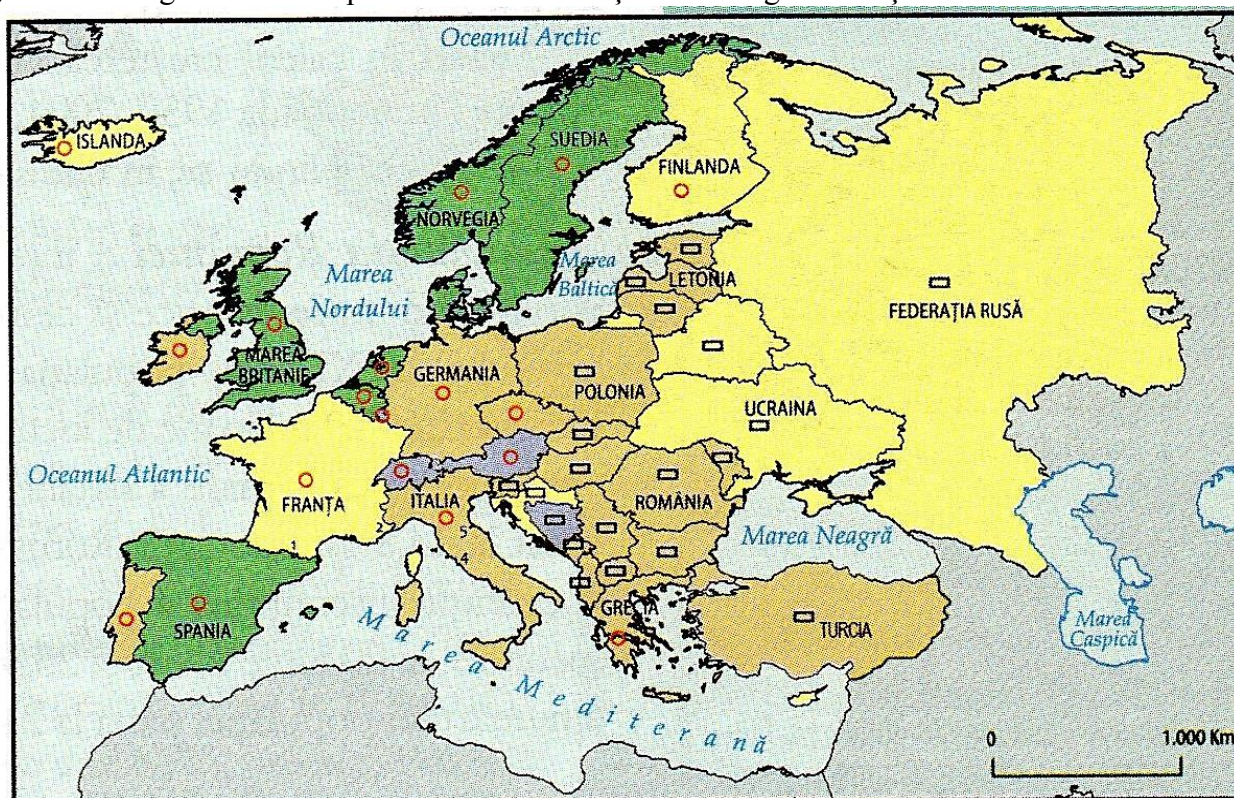
SUBIECTELE:

I. Precizați **trei deosebiri** și **trei asemănări** între relieful Munților Alpi și relieful Munților Carpați.

6 puncte

II. Harta de mai jos reprezintă statele Europei după forma de guvernământ și după gradul de dezvoltare economică. Precizați:

- a) formele de guvernământ reprezentate în legenda hărții, notate cu literele **A, B, C, D**;
- b) tipurile de state după gradul de dezvoltare economică notate la legenda hărții cu numerele **I și II**;
- c) formele de guvernământ specifice statelor menționate în legenda hărții cu numere de la **1 la 5**.



Statele Europei după forma de guvernământ și nivelul de dezvoltare economică

11 puncte

III. Cu privire la industria energiei electrice în Europa și în România analizați valorificarea termoenergiei la nivelul celor două entități geografice.

18 puncte

IV. Diagramele climatice alăturate sunt realizate pe baza datelor obținute la trei stații meteorologice din Europa.

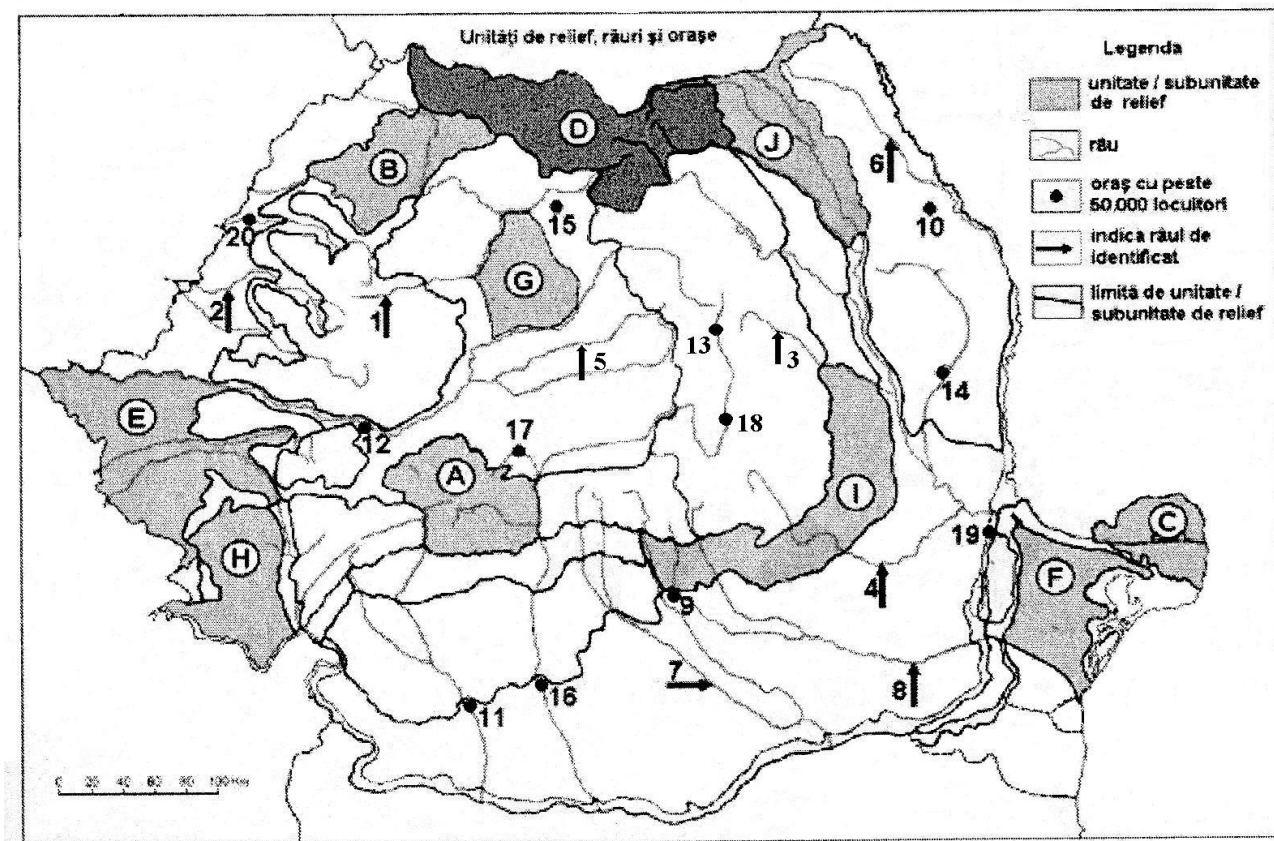
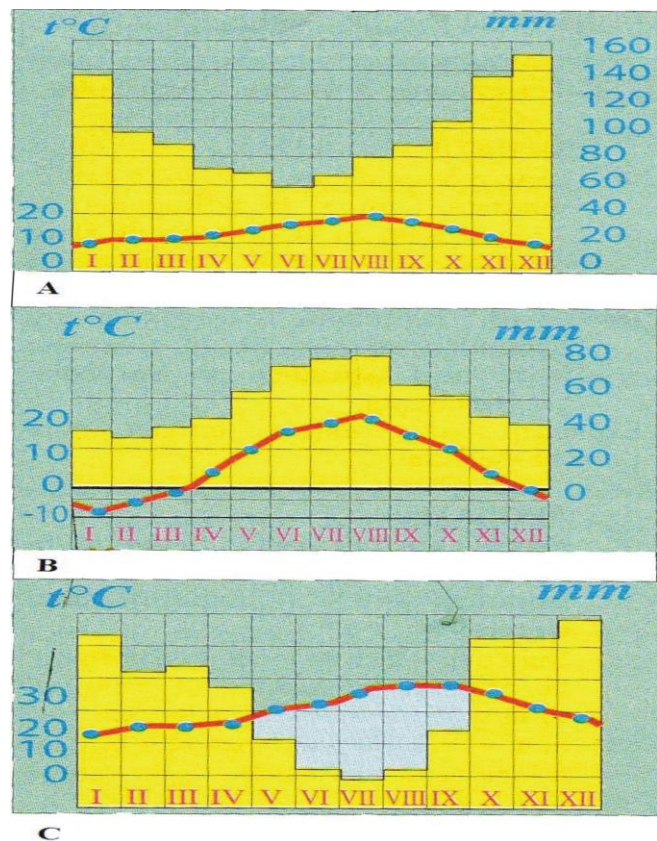
Se cere:

- precizați tipurile de climate reprezentate în diagramele A, B și C.
- Caracterizați climatul specific diagramei B.

10 puncte

V. Pe harta de mai jos sunt marcate unități de relief (sau subunități ale acestora) cu litere, râuri cu numere de la 1 la 8 și orașe de la 9 la 20. Se cere:

- precizați unitățile/subunitățile de relief marcate, pe hartă, cu litere de la A la J;
- râurile marcate, pe hartă, cu numere, de la 1 la 8 și orașele marcate, pe hartă, cu numere, de la 9 la 20.
- pentru subunitatea de relief marcată, pe hartă, cu litera F, precizați:
 - patru caracteristici ale reliefului;
 - influențele climatice;
 - vegetația specifică;
 - două râuri care o străbat.



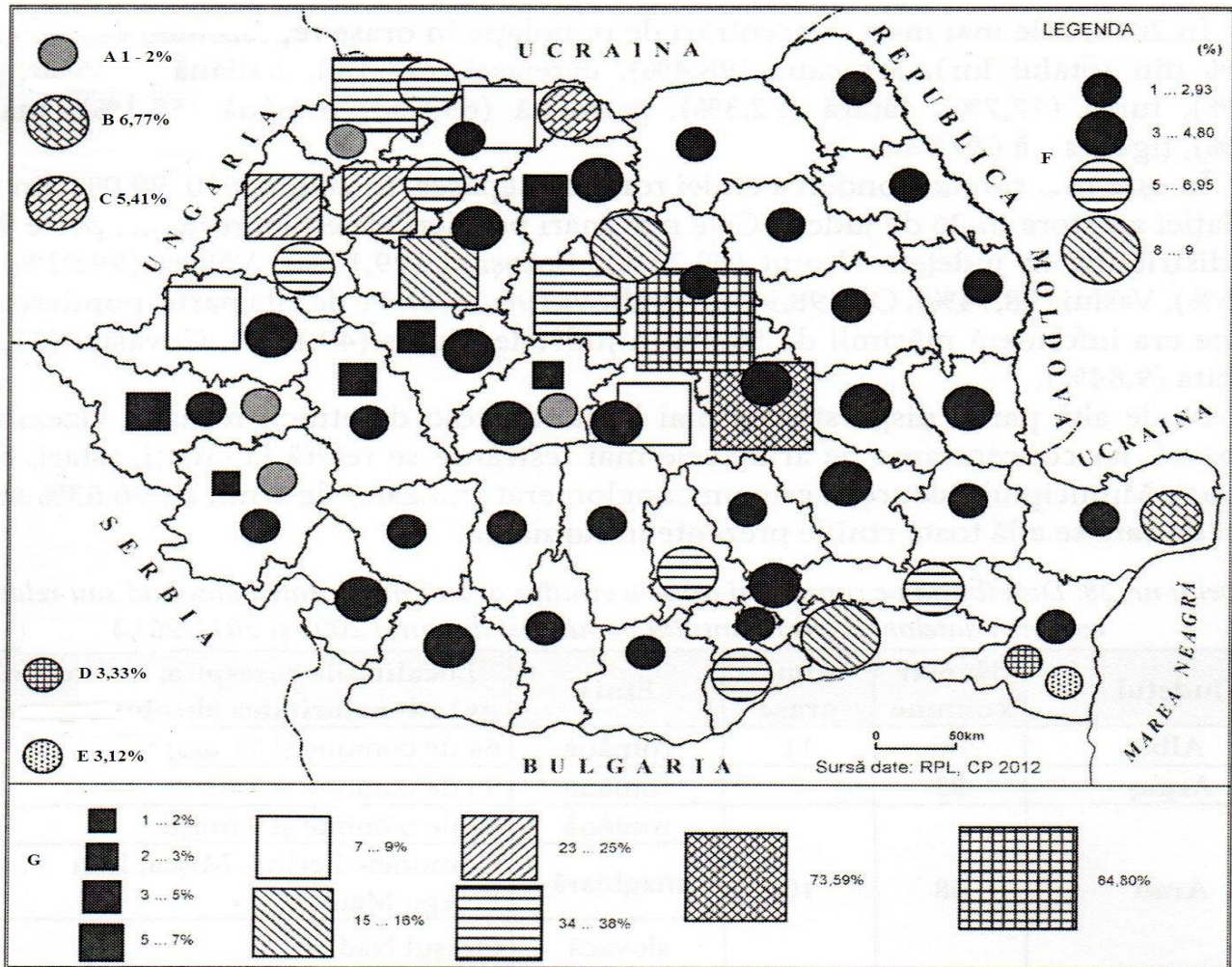
25 de puncte

VI. Pe harta României, de mai jos, este reprezentată ponderea etniilor, altele decât cea română, pe județe, în anul 2012. Se cere:



INSPECTORATUL ȘCOLAR JUDEȚEAN ILFOV

1. Identificați etniile marcate, pe hartă, cu litere de la A la G.
2. Menționați județele în care ponderea etniilor, altele decât cea română, depășește 25 % din totalul populației județului.
3. Analizați repartiția teritorială a etniilor reprezentată pe hartă și ponderea acestora la nivel național.



Sursa: N. Ilinca, *Geografie umană, România* (2012)

20 de puncte

OFICIU: 10 puncte
TOTAL: 100 puncte



**CONCURSUL ȘCOLAR DE GEOGRAFIE,
ETAPA LOCALĂ, 12 FEBRUARIE 2014
CLASA A XII-A**

BAREM DE EVALUARE ȘI NOTARE

- Se punctează oricare alte formulări / modalități de rezolvare corectă a cerințelor.
- Nu se acordă punctaje intermediare, altele decât cele precizate explicit prin barem. Nu se acordă fracțiuni de punct.

I. Se acordă 6 puncte (câte 1 punct pentru fiecare asemănare sau deosebire corect menționată):

1. Deosebiri:

- altitudini mai mari în Alpi – 1p;
- lipsa reliefului vulcanic în Alpi – 1p;
- masivitatea accentuată a Alpilor comparativ cu Carpații, ș.a. – 1p

2. Asemănări:

- s-au înălțat și cutat în orogeneza alpină – 1p;
- ambele au relief glaciatic – 1p;
- ambele au relief carstic/ambele au generat piemonturi ș.a. – 1p;

II. Se acordă 11 puncte (câte 1 punct pentru fiecare cerință corect rezolvată), respectiv:

A= republică parlamentară – 1p; B= republică prezidențială – 1p; C= republică federală – 1p;

D= monarhie constituțională – 1p; I= țară dezvoltată cu economie de piață – 1p; II= țară în dezvoltare cu venituri intermediare – 1p; 1.Andora= principat – 1p; 2.Monaco= ducat – 1p;

3= Liechtenstein= monarhie constituțională și principat ereditar – 1p; 4.Vatican= stat papal – 1p; 5. San Marino= republică prezidențială – 1p.

III. Se acordă 18 puncte, respectiv:

1. resursele energetice (combustibilii fosili) – **9 puncte**, din care:
 - cărbunii, petrolul și gazele naturale în Europa – 3p și în România – 6p;
2. termocentralele – **9 puncte**, din care:
 - în Europa – pondere dominantă (1p), exemple (4p);
 - în România – pondere 60% (1p), exemple (3p).

IV. Se acordă 10 puncte pentru:

a) A – climat temperat-oceanic – 2p; B – climat temperat-continental – 2p; C – climat subtropical mediteranean – 2p; b) caracteristicile climatului temperat continental – 4p.

V. Se acordă 25 de puncte, respectiv:

a) se acordă **5 puncte** (câte 0,5p pentru fiecare unitate/subunitate de relief corect menționată):

a) A. Grupa Parâng; B. Dealurile Sălajului și Crasnei; C. Delta Dunării; D. Grupa Nordică a Carpaților Orientali/Carpații Maramureșului și Bucovinei; E. Câmpia Banatului; F. Masivul Dobrogei de Nord; G. Câmpia Transilvaniei; H. Munții Banatului; I. Subcarpații Curburii; J. Podișul Sucevei.

b) se acordă **10 puncte** (câte 0,5p pentru fiecare râu și oraș corect menționat):

1. Someșul Mic; 2. Crișul Negru; 3. Trotuș; 4. Buzău; 5. Târnava Mică; 6. Jijia; 7. Argeș; 8. Ialomița; 9. Târgoviște; 10. Iași; 11. Craiova; 12. Deva; 13. Miercurea Ciuc; 14. Bârlad; 15. Bistrița; 16. Slatina; 17. Sibiu; 18. Sf. Gheorghe; 19. Brăila; 20. Oradea.

c) se acordă **10 puncte**, respectiv:

- caracteristicile reliefului – 4p; influențe climatice (continentale și pontice) – 2p; vegetație dominantă (silvostepă și păd. de stejar) – 2p; Telița/Taița/Slava/Casimcea – 2p.

VI. Se acordă 20 de puncte, respectiv:

1. **4 puncte** (câte 0,5p pentru fiecare etnie corect identificată): A – germană; B – ucraineană; C – rus-lipovceană; D – turcă; E – tătară; F – romă; G – maghiară:



2. **3 puncte** (câte 0,5 puncte pentru fiecare județ corect menționat): Bihor – 0,5p; Covasna – 0,5p; Harghita – 0,5p; Mureș – 0,5p; Satu Mare – 0,5p; Sălaj – 0,5p.

3. **13 puncte**, respectiv:

- românii reprezintă 89,5 % din totalul populației țării (1p), iar minoritățile etnice 10,5% (1p);
 - maghiarii reprezintă cea mai mare comunitate etnică (6,6% din totalul populației țării) (0,5p) fiind concentrați în mod deosebit în Transilvania (0,5p), Banat (0,5p), Crișana (0,5p), Maramureș (0,5p);
- rromii (2,5%) (0,5p), au o repartitie relativ uniformă (0,5p), cu ponderi mai mari în București și împrejurimi (0,5p), Oltenia/Dolj (0,5p), centrul țării/Brașov, Mureș, Sibiu (0,5p) și Banat/vestul țării (0,5p);
- ucrainenii (0,3%) (0,5p), cu ponderi mai mari în Maramureș (0,5p), Bucovina (0,5p) și nordul Dobrogei (0,5p);
- germanii (0,3%) (0,5p), în sudul Transilvaniei (0,5p) și Banat (0,5p);
- rus-lipovenii (0,2%) (0,5p), în Maramureș (0,5p);
- turcii (0,2%) (0,5p) și tătarii (0,1%), cu pondere mai mare în Dobrogea (0,5p).